

SOUS-TEST 2 : RESOLUTION DE PROBLEMES

**CETTE PARTIE EST CONSTITUEE DE 20 QUESTIONS
D'ARITHMETIQUES, DE MATHEMATIQUES ET DE LOGIQUE.
VOUS DISPOSEZ DE 45 MINUTES.**

**CONSIGNES : POUR CHAQUE QUESTION UNE PLACE VIDE A
ETE LAISSEE. VOUS POUVEZ L'UTILISER COMME
BROUILLON POUR FAIRE VOS CALCULS. LES QUESTIONS NE
SONT PAS RANGEES SELON UN ORDRE CROISSANT DE
DIFFICULTE.**

**N'OUBLIEZ PAS QU'UNE BONNE REPONSE VOUS
RAPPORTERA
3 POINTS, QU'UNE MAUVAISE REPONSE VOUS RETIRERA
1 POINT ET QU'UNE ABSENCE DE REPONSE
NE VOUS RETIRERA AUCUN POINT**

**NE PAS OUVRIR CE CAHIER AU-DELA DE CETTE PAGE AVANT
QUE L'EXAMINATEUR NE VOUS L'INDIQUE.**



Durée – 45 MINUTES –

Question 21 : On a partagé 144 dirhams entre trois personnes. La première prend 3 fois ce que prend la deuxième. La troisième prend le double de ce que prend la deuxième. Quelle est la part de la troisième personne ?

- A. 48 dirhams
- B. 50 dirhams
- C. 52 dirhams
- D. 72 dirhams

Question 22 : A l'occasion d'une fête scolaire, on a enregistré 160 entrées à 8 dirhams, 240 à 6 dirhams et 180 à 5 dirhams. On a vendu 450 billets de tombola.

La recette est répartie ainsi :

- 40 % pour la caisse des clubs de l'école,
- 25 % pour l'association des anciens élèves
- 15 % de taxes
- le reste pour l'école est de : 1534,00 dirhams

Calculer le montant total de la recette.

- A. 7670 dirhams
- B. 7770 dirhams
- C. 7890 dirhams
- D. 7950 dirhams

Question 23 : Une personne achète 3,60 mètres de tissu. Si elle avait choisi un autre tissu valant 15 dirhams de moins par mètre, elle aurait pu acheter 4,20 mètres pour la même somme. Quel est le prix du mètre de tissu acheté ?

- A. 103 dirhams
- B. 104 dirhams
- C. 105 dirhams
- D. 106 dirhams

Question 24 : Un contremaître reçoit 8 730 dirhams pour payer deux ouvriers. Le premier a travaillé 7 heures par jour pendant 13 jours. Le second a travaillé 10 heures par jour pendant 20 jours. Les ouvriers ont le même salaire horaire. Quelle somme sera remise à chacun d'eux ?

- A. (2710 dirhams ; 6020 dirhams)
- B. (2700 dirhams ; 6030 dirhams)
- C. (2730 dirhams ; 6000 dirhams)
- D. (2705 dirhams ; 6025 dirhams)

Question 28 : Siham a écrit cinq mots en respectant une même disposition de certaines lettres.

- Brigade
- Cigale
- Brigand
- Intrigant
- Fatigant

Quel mot, parmi les quatre suivants, respecte la règle choisie ?

- A. Bocage
- B. Ermitage
- C. Fringant
- D. Manigance

Question 29 : Sachant que y est égal à 75% de x .

(1) $x > 150$

(2) $x - y = 74$

Laquelle des propositions ci-dessous est vraie pour répondre à la question : quelle est la valeur de y ?

- A. Si l'information (1) permet à elle seule de répondre à la question, et l'information (2) à elle seule ne permet pas de répondre à la question
- B. Si l'information (2) permet à elle seule de répondre à la question, et l'information (1) à elle seule ne permet pas de répondre à la question
- C. Si les deux informations (1) et (2) ensemble permettent de répondre à la question et aucune séparément ne le peut.
- D. Si les deux informations ensemble ne permettent pas de répondre à la question.

Question 30 : Un fabricant de photocopieuses garantit qu'une de ses machines peut réaliser une photocopie toutes les 2,5 secondes. A ce rythme, combien de photocopies peut-on effectuer en une heure ?

- A. 1400
- B. 1440
- C. 3600
- D. 9000



Question 25 : Vous possédez une certaine somme d'argent dans votre porte monnaie, vous dépensez les $\frac{3}{5}$ de cette somme dans un premier magasin, puis les $\frac{4}{7}$ de ce qui vous reste dans un autre magasin. Vous souhaiteriez ensuite acheter deux cassettes audio à 86,50 dirhams l'une, mais il vous manque 11 dirhams. Calculez la somme d'argent que vous possédiez au départ.

- A. 945 dirhams
- B. 960 dirhams
- C. 970 dirhams
- D. 980 dirhams

Question 26 : Deux machines M1 et M2 embouteillent de l'eau. M1 travaille 7 fois plus vite que M2. M1 remplit x bouteilles par minute ; les deux machines sont utilisées pendant 3 heures. Combien de bouteilles a-t-on remplies ?

- A. $(\frac{8}{7})x$
- B. $(x + \frac{1}{7})180$
- C. $(\frac{1440}{7})x$
- D. $(\frac{180}{7})x$

Question 27 : Deux villages sont distants de 4,360 km. La route reliant ces deux villages est bordée d'arbres de part et d'autres. Les arbres sont espacés de 15 m, et le premier arbre se trouve à 200 m de la sortie de chaque village. Combien y-a-t-il d'arbres sur la route reliant les deux villages ?

- A. 264
- B. 265
- C. 520
- D. 530

Question 35 : Parmi 38 étudiants de la 3^{ème} année filière commerce de l'ENCG, 26 apprennent l'espagnol, 15 l'allemand dont 8 apprennent aussi l'espagnol. Quel est le nombre d'étudiants de la 3^{ème} année filière commerce de l'ENCG qui n'apprennent aucune de ces langues ?

- A. 5
- B. 7
- C. 9
- D. 11

Question 36 : Au concours d'entrée à une école de gestion, on a fait passer un test de logique aux 2400 étudiants admissibles. Le matin, 600 étudiants ont passé le test et la moyenne de leurs résultats a été de 62,5%. L'après midi, les 1800 étudiants restants ont passé le même test et la moyenne de leurs résultats a été de 82,5 %. Quelle a été la moyenne des résultats de l'ensemble des 2400 étudiants ?

- A. 72,5 %
- B. 75,5 %
- C. 77,5 %
- D. 79,5 %

Question 37 : Un capital est placé à intérêt simple.

- Si on le place pendant trois ans, la somme formée par le capital et les intérêts produits s'élève à 40 000 dirhams.
- Si on le place au même taux pendant 5 ans et six mois, la somme formée par le capital et les intérêts est, alors, de 46 000 dirhams.

Quel est le montant de ce capital ?

- A. 32 800 dirhams
- B. 35 000 dirhams
- C. 36 000 dirhams
- D. 36 200 dirhams



Question 38 : Les nombres manquants à la série suivante : 5 ; 8 ; 12 ; 17 ; 23 ; 30 ; 38 ; 47 ; ; sont :

- A. 56 ; 68
- B. 56 ; 69
- C. 57 ; 68
- D. 57 ; 69

Question 39 : Sur une carte d'état major, on note que 37,8 km sur le terrain est représenté par 2,7 cm. Quelle est l'échelle de cette carte ?

- A. 1/1000000
- B. 1/1300000
- C. 1/1400000
- D. 1/1500000

Question 40 : Fatima agence les nombres 1, 2, 3 et 4 de façon à former deux groupes de deux nombres dont la somme est 5. Elle trouve deux solutions : $1 + 4$ et $2 + 3$.

Elle utilise maintenant les nombres de 1 à 12. Elle veut former des groupes de trois nombres dont la somme est 15. Elle ne doit pas placer deux nombres identiques dans le même groupe.

Combien trouve-t-elle de solutions ?

- A. 5
- B. 9
- C. 11
- D. 12

**NE PAS OUVRIR CE CAHIER AU-DELA DE CETTE PAGE AVANT
QUE L'EXAMINATEUR NE VOUS L'INDIQUE.**

Durée – 20 MINUTES –

- Texte 1 -

Régionalisation avancée : Comment assurer une équité régionale

Près d'un an après le rejet des Plans de développement régional (PDR) par le ministère de l'Intérieur, les nouvelles propositions des Conseils régionaux (CR) tardent à venir. Pourtant, il s'agit d'un des chantiers prioritaires du Royaume tracé bien avant le nouveau modèle de développement économique en préparation.

En fait, la mise en place de la régionalisation avancée est un processus de longue haleine. Instaurée depuis le référendum du 31 juillet 2011, la régionalisation élargie, figurant dans l'article 9 de la Constitution, promet d'offrir une vision globale du projet de réforme du système régional auquel aspire le Maroc de demain.

De plus, le projet de régionalisation avancée favorise un développement socio-économique équitable à travers des régions fortes et intégrées et consolide la démocratie locale. Il est question, dans ce sens, de renforcer la représentativité et la légitimité des CR, de promouvoir l'équité genre en matière d'accès des femmes aux fonctions électives et de gestion en région et d'organiser la participation des citoyens, de la société civile et du secteur privé au débat public sur les affaires régionales et à la bonne conduite de ces affaires.

Mais voilà que 8 ans après le référendum de 2011, et 3 ans après l'entrée en vigueur des 12 nouvelles régions, la régionalisation avancée n'est toujours pas palpable. Et ce, pour diverses raisons. A des conseils régionaux qui ont présenté des Plans de développement régional (PDR) «surréalistes», s'ajoutent le manque de ressources humaines et la complexité du processus de déconcentration et décentralisation des services de l'Etat.

Bien évidemment, ceux qui imaginaient que le transfert des attributions du centre vers les régions serait facile avaient tort. Car, la mise en œuvre de ce transfert nécessite un

Texte 2 –

Union africaine : Coup d'envoi de la Zone de libre-échange continentale

La Zone de libre-échange continentale (Zlec), projet phare de l'Union africaine en vue de l'émancipation économique du continent, est entrée en vigueur le 30 mai 2019. La phase opérationnelle doit toutefois être lancée le 7 juillet lors d'un sommet de l'UA à Niamey.

Ceci après finalisation d'instruments clés comme les mécanismes d'arbitrage, la définition des règles d'origine des marchandises ou encore des dispositifs en vue de l'élimination d'obstacles tels que la corruption ou le mauvais état des infrastructures.

Cinquante-deux membres de l'UA sur 55 ont signé l'accord portant création de la zone depuis mars 2018, avec l'exception notable de la première économie du continent, le Nigeria qui attend les résultats d'une étude d'impact. Pour entrer en vigueur, il fallait que 22 membres ratifient le texte et le notifient officiellement à l'organisation continentale. Ce seuil a été atteint le 29 avril, ouvrant la voie à une entrée en vigueur 30 jours plus tard, comme prévu dans les statuts.

Depuis le 29 avril, le Burkina Faso et le Zimbabwe ont déposé leurs instruments de ratification, portant le nombre de pays inclus dans la Zlec à 24, avec l'Afrique du Sud, l'Égypte, le Kenya ou l'Éthiopie. D'autres pays ont entrepris une ratification, dont le Maroc qui a fait son grand retour à l'UA. Le Royaume pourra ainsi augmenter ses exportations et ses investissements dans d'autres régions que l'Afrique de l'Ouest.

La Zone de libre-échange doit permettre l'élimination progressive des droits de douane entre pays membres. Ce qui favorisera le commerce au sein du continent et permettra aux pays africains de s'émanciper d'un système économique trop centré sur l'exploitation des matières premières.

Le FMI a toujours encouragé les pays africains à progresser dans la mise en place de cette zone. Car, elle pourrait changer la donne sur le continent. A condition de baisser, voire supprimer à terme, les droits de douane, mais surtout de lever les goulets d'étranglement non-tarifaires, en améliorant en particulier les infrastructures et la

logistique commerciale. Selon les estimations de la Banque africaine de développement (BAD), la Zone de libre-échange continentale devra doper le PIB du continent de plus de 35 milliards de dollars dans les cinq prochaines années. Pour sa part, la Commission économique pour l'Afrique des Nations Unies estime que la concrétisation de cet ensemble économique contribuera à augmenter la part de l'Afrique dans le commerce mondial. Celle-ci étant encore dérisoire puisqu'elle n'en représente qu'environ 2%. Pour certains experts, une telle zone permettrait également de réduire la dépendance de l'Afrique vis-à-vis de l'étranger avec une baisse des importations africaines de 10,2 milliards de dollars.

L'UA estime que la mise en œuvre de la Zlec permettra d'augmenter de près de 60% d'ici à 2022 le niveau de commerce intra-africain. Actuellement, seulement 16% du commerce des pays africains s'effectue avec d'autres pays du continent. Si les 55 pays membres de l'Union africaine signent le document, la zone ouvrira l'accès à un marché de 1,2 milliard de personnes, pour un PIB cumulé de plus de 2.500 milliards de dollars. Ses défenseurs estiment qu'elle aidera à la diversification des économies africaines et à l'industrialisation du continent, tout en lui offrant une plateforme unique pour négocier de meilleurs accords commerciaux avec l'extérieur.

L'économiste Edition N°:5529 Le 03/06/2019

***NE PAS OUVRIR CE CAHIER AU-DELA DE CETTE PAGE AVANT
QUE L'EXAMINATEUR NE VOUS L'INDIQUE.***



*Durée – 15 MINUTES –
- Questions Texte 1 –*

Question 1 : En quelle date a eu lieu le référendum instaurant le processus de la régionalisation avancée ?

- A. Le 30 Juin 2011.
- C. Le 31 Juillet 2011.

- B. Le 30 Juin 2012.
- D. Le 31 Juillet 2012.

Question 2 : En quelle date, les décrets d'application de la loi organique sur les régions ont-ils été adoptés par les 2 chambres ?

- A. Juin 2017.
- C. Juillet 2017.

- B. Juin 2018.
- D. Juillet 2018.

Question 3 : En quel mois ont eu lieu les élections parlementaires de 2011 ?

- A. Juillet.
- C. Octobre.

- B. Septembre.
- D. Novembre.

Question 4 : A l'horizon 2021, le budget des douze régions du Maroc devrait atteindre :

- A. 10 milliards de DH.
- C. 11 milliards de DH.

- B. 10,5 milliards de DH.
- D. 11,5 milliards de DH.

Question 5 : En 2019, le budget prévu pour les régions s'élève à :

- A. 4,6 milliards de DH.
- C. 5,6 milliards de DH.

- B. 4,8 milliards de DH.
- D. 5,8 milliards de DH.

Question 6 : Que signifie « PDR » dans le texte ?

- A. Processus de Développement Régional.
- B. Programme de Développement Régional.
- C. Plans de Développement Régional.
- D. Processus de Démocratisation Régionale.

Question 7 : Le processus de la régionalisation avancée permettra l'élaboration :

- A. des schémas régionaux d'aménagement du territoire.
- B. des schémas locaux de développement du territoire.
- C. des programmes de déconcentration régionale.
- D. de la charte de décentralisation régionale.

Question 8 : Selon le texte, le projet de régionalisation avancée vise à favoriser :

- A. un développement socio-économique équitable.
- B. un développement socio-culturel équitable.
- C. un développement socio-économique durable.
- D. un développement socio-culturel durable.

Question 9 : En vertu de la loi de finance 2019, la part réservée aux régions au titre des recettes de l'IS et de l'IR a été relevée de :

- A. 3 à 5 %.
- C. 3 à 6 %.

- B. 4 à 5 %.
- D. 4 à 6 %.

Question 10 : Dans quel article de la constitution de 2011 figure la régionalisation élargie ?

- A. Article 7.
- C. Article 13.

- B. Article 9.
- D. Article 17.

SOUS-TEST 3 : CONNAISSANCES GENERALES

**CETTE PARTIE EST CONSTITUEE DE 30 QUESTIONS DE
CONNAISSANCES GENERALES.
VOUS DISPOSEZ DE 20 MINUTES.**

**N'OUBLIEZ PAS QU'UNE BONNE REPONSE VOUS
RAPPORTERA
3 POINTS, QU'UNE MAUVAISE REPONSE VOUS RETIRERA
1 POINT ET QU'UNE ABSENCE DE REPONSE
NE VOUS RETIRERA AUCUN POINT**

**NE PAS OUVRIR CE CAHIER AU-DELA DE CETTE PAGE AVANT
QUE L'EXAMINATEUR NE VOUS L'INDIQUE.**



Durée - 20 MINUTES -

Question 41 : En quel siècle a été fondée la dynastie Alaouite ?
A. 15^{ième} siècle
B. 16^{ième} siècle
C. 17^{ième} siècle
D. 18^{ième} siècle

Question 42 : Que signifie « VAR », technologie récemment utilisée dans les matchs de Football ?
A. Vidéo Assistant Répétition
B. Vidéo Assistant Rétroaction
C. Video Assistant Referres
D. Vidéo Assistant Révision

Question 43 : Le premier journaliste arabe et africain élu en Juin 2019 à la tête de la Fédération Internationale des Journalistes (FIJ) est :
A. Younes MOUJAHID
B. Nouredine MIFTAH
C. Mohamed LAÂRAJ
D. Abdelmounaim DILAMI

Question 44 : En quelle date, la LGV « AL BORAQ » a été mise en service ?
A. Octobre 2018
B. Novembre 2018
C. Décembre 2018
D. Janvier 2019

Question 45 : Le mandat du gouvernement marocain est de :
A. 3 ans
B. 4 ans
C. 5 ans
D. 6 ans

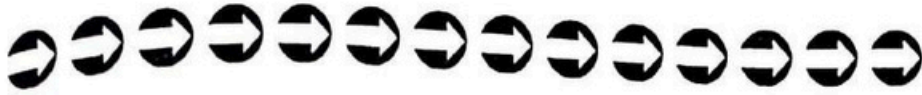
Question 46 : Quel est le nom du premier ministre britannique qui a démissionné suite à l'affaire BREXIT ?
A. David Cameron
B. Boris Johnson
C. Jeremy Hunt
D. Theresa MAY

Question 47 : Le premier partenaire commercial du Maroc en 2018 est :
A. La Turquie
B. La France
C. L'Espagne
D. La Chine

Question 48 : Quel traité international vise la réduction de gaz à effet de serre ?
A. Le traité de Kyôto
B. Le traité de Lisbonne
C. Le traité de Maastricht
D. Le traité de Nice

Question 49 : Averroès (Ibn Rochd) est philosophe et médecin andalou du :
A. 10^{ième} siècle
B. 11^{ième} siècle
C. 12^{ième} siècle
D. 13^{ième} siècle

Question 50 : La nouvelle guerre commerciale entre la Chine et les Etats Unis d'Amérique s'est aggravée en 2019 suite à :
A. L'introduction par les USA de nouvelles taxes douanières
B. La crise Huawei
C. Le retrait des USA de l'accord sur le nucléaire avec l'Iran
D. Le rapprochement économique entre la Chine et l'UE



Question 51 : Parmi ces quatre pièces de théâtre, laquelle n'a pas été écrite par Molière ?

- A. Le jeu de l'amour et du hasard
- B. Le Tartuffe
- C. Le malade imaginaire
- D. Les femmes savantes

Question 52 : A l'origine, Facebook était :

- A. Un site de rencontre
- B. Un album de photos en ligne
- C. Un réseau social de distraction
- D. Un réseau social étudiantin

Question 53 : Qui a écrit le livre « *La mémoire tatouée* » ?

- A. Tahr Benjelloune
- B. Driss Chraïbi
- C. Abdelkebir Khatibi
- D. Ahmed Sefrioui

Question 54 : L'espace SCHENGEN est composé de :

- A. 22 pays
- B. 24 pays
- C. 25 pays
- D. 26 pays

Question 55 : En quel pays la Copa America de 2019 a été organisée ?

- A. Argentine
- B. Bolivie
- C. Brésil
- D. Uruguay

Question 56 : La coupe du monde de 2026 sera conjointement organisée par :

- A. USA – Mexique – Canada
- B. USA – Mexique
- C. USA – Canada
- D. Canada – Mexique

Question 57 : Quel est l'indice boursier non utilisé à la Bourse de Casablanca ?

- A. MASI
- B. MADEX
- C. CAC 40
- D. CFG 25

Question 58 : Où siège l'OTAN ?

- A. En Allemagne
- B. En Angleterre
- C. En Belgique
- D. En France

Question 59 : Le nombre des Universités publiques au Maroc est de :

- A. 12
- B. 13
- C. 14
- D. 15

Question 60 : En 2018, le secteur Automobile a été classé au Maroc en termes de valeur d'exportation :

- A. En 1^{ière} position
- B. En 2^{ième} position
- C. En 3^{ième} position
- D. En 4^{ième} position

Question 61 : Quelle est l'origine du mouvement de revendication sociale, en France, connu sous le nom des gilets jaunes ?

- A. La politique fiscale
- B. La hausse des prix du carburant
- C. Le régime des retraites
- D. La détérioration du pouvoir d'achat

Question 62 : Le référendum relatif à l'approbation de la dernière constitution au Maroc a eu lieu en :

A. 2010
B. 2011
C. 2012
D. 2013

Question 63 : *Cloud Computing* est une technologie qui consiste à stocker et à traiter de l'information sur :

A. des serveurs distants
B. des serveurs locaux
C. des disques durs externes
D. des sites internet

Question 64 : Quel est le nom du 2^{ème} satellite marocain d'observation de la terre ?

A. Mohammed VI – A
B. Mohammed VI – B
C. ATLAS – A
D. ATLAS – B

Question 65 : Que signifie ANAPEC ?

A. Agence Nationale de Promotion de l'Emploi et des Compétences
B. Association Nationale pour la Promotion de l'Emploi et des Compétences
C. Association Nationale des Programmes des Etudes Commerciales
D. Agence Nationale des Programmes des Etudes Commerciales

Question 66 : Quel est le joueur africain du Football devenu président de la République du Libéria ?

A. Didier Drogba
B. Roger Milla
C. Abédié Pelé
D. Georges Weah

Question 67 : Où siège le parlement européen ?

A. Bruxelles
B. Luxembourg
C. Strasbourg
D. Vienne

Question 68 : Quelle est la monnaie unique des 15 pays de l'Afrique de l'Ouest ?

A. Cedi
B. Franc
C. Fran CFA
D. Rand

Question 69 : Qui a remporté la première édition de la ligue des nations de l'UEFA ?

A. France
B. Pays-Bas
C. Portugal
D. Suisse

Question 70 : Quelle est la Capital du Ghana ?

A. Abuja
B. Accra
C. Abidjan
D. Conakry

**NE PAS OUVRIR CE CAHIER AU-DELA DE CETTE PAGE AVANT
QUE L'EXAMINATEUR NE VOUS L'INDIQUE.**

SOUS-TEST 4 : LINGUISTIQUE SEMANTIQUE

CETTE PARTIE EST CONSTITUEE DE 30 QUESTIONS DE LINGUISTIQUE SEMANTIQUE. VOUS DISPOSEZ DE 20 MINUTES.


CONSIGNES : CHAQUE QUESTION EST PRESENTEE SOUS FORME D'UN TEXTE DANS LEQUEL PEUT FIGURER UN MOT OU UNE EXPRESSION ABSENT OU EN GRAS. VOUS DEVEZ CHOISIR PARMIS LES QUATRE REPONSES POSSIBLES CELLE QUI CORRESPOND LE MIEUX.

N.B : LA QUESTION PEUT RELEVER SOIT DE :

- L'ORTHOGRAPHE
- LE VOCABULAIRE
- LA GRAMMAIRE
- LA CONJUGAISON
- LE LEXIQUE

N'OUBLIEZ PAS QU'UNE BONNE REPONSE VOUS RAPPORTERA 3 POINTS, QU'UNE MAUVAISE REPONSE VOUS RETIRERA 1 POINT ET QU'UNE ABSENCE DE REPONSE NE VOUS RETIRERA AUCUN POINT

NE PAS OUVRIR CE CAHIER AU-DELA DE CETTE PAGE AVANT QUE L'EXAMINATEUR NE VOUS L'INDIQUE.



Durée - 20 MINUTES -

Question 71 : Parmi les phrases suivantes, laquelle contient un participe passé mal accordé ?

- A. Les pièces que j'ai vu jouer
- B. Combien avez-vous rencontré de personnes ?
- C. Elle s'est construit une maison
- D. Elles se sont lavées les mains

Question 72 : Une personne qui lit avec peine, en hésitant, est une personne qui

- A. grommelle
- B. marmonne
- C. ânonne
- D. susurre

Question 73 : Le mot mal orthographié est :

- A. Ablution
- B. Adduccion
- C. Affliction
- D. Annexion

Question 74 : Parmi ces expressions, une seule ne constitue pas un pléonisme, laquelle ?

- A. Comme par exemple
- B. Une secousse sismique
- C. Un bip sonore
- D. Applaudir à deux mains

Question 75 : Quel est le synonyme de la phrase *Les yeux écarquillés, il attendait son acquiescement* ,

- A. Les yeux grands ouverts, il attendait sa condamnation
- B. Les yeux grandes ouvertes, il attendait sa condamnation
- C. Les yeux grands ouverts, il attendait sa relaxation
- D. Les yeux grands ouverts, il attendait son adhésion

Question 76 : *Dure fut la chute.* Quelle est la fonction du mot en gras ?

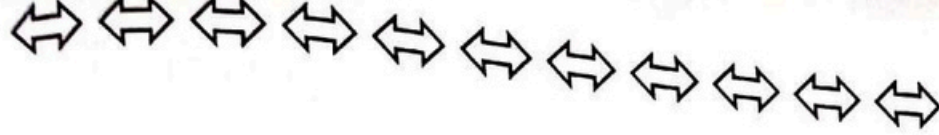
- A. Sujet du verbe
- B. Attribut du sujet
- C. Adverbe de manière
- D. Adjectif qualificatif

Question 77 : Quelle est la forme correcte ?

- A. Nous nous sommes dit au revoir
- B. Nous nous sommes dits au revoir
- C. Nous nous sommes dis au revoir
- D. Nous nous sommes dites au revoir

Question 78 : Que signifie « nonobstant »

- A. En dépit de
- B. Sous le prétexte de
- C. A cause de
- D. En conséquence de



Question 79 : Lequel de ces noms n'est pas masculin ?
A. Anagramme
C. Epiderme
B. Astérisque
D. Antre

Question 80 : On écrit :
A. Sept cents milles
C. Sept cent mille
B. Sept cents mille
D. Sept cent milles

Question 81 : J'ai téléphoné à mes parents et que je passerai les vacances chez eux.
A. je leur ai dit
C. je leur ai dis
B. je leur ai dits
D. je leur ai dites

Question 82 : Quel est le sens du mot **sagacité** dans la phrase suivante :
La bulle technologique a fait le bonheur de certains investisseurs, notamment les professionnels qui ont eu la sagacité de vendre leurs actions avant l'effondrement des cours.
A. amabilité
C. naïveté
B. facilité
D. perspicacité

Question 83 : Si tu, tum'aider.
A. étais venu / aurais pu
C. viendras / pourras
B. viens / pourrais
D. venais / pourras

Question 84 : La question de l'insertion professionnelle des jeunes se pose aujourd'hui avec d'autant plus d'acuité que le temps du plein emploi est révolu. Dans cette phrase l'expression est révolu peut être remplacée par :
A. est revenue
C. a évolué
B. est terminé
D. a changé

Question 85 : Ces deux phénomènes ne sont pas toujours, le premier pouvant se produire avant l'autre et vice versa.
A. Compatibles
C. Convergents
B. Concomitants
D. Consécutifs

Question 86 : Quel est l'intrus ?
A. Envisager
C. Scruter
B. Observer
D. guetter

Question 87 : Quel est l'antonyme de « éluder » ?
A. Parler
C. Affronter
B. Esquiver
D. trouver



Question 88 : Le proverbe « Il n'y a pas de fumée sans feu » veut dire :

- A. Il y a toujours une part de vérité à l'origine d'une rumeur
- B. Il ne faut pas se fier aux commérages
- C. Les rumeurs sont toujours mensongères
- D. Il faut assumer les conséquences de ses actes

Question 89 : Dans un contexte aussi particulier, le discours du directeur était, plus encore qu'à l'accoutumée, empreint de déférence. « déférence » veut dire :

- A. dérision
- B. considération
- C. insolence
- D. arrogance

Question 90 : Quelle signification le mot de liaison « de sorte que » véhicule-t-il dans la phrase *Ce film a eu beaucoup de succès, de sorte qu'on devrait le voir à la télévision très prochainement.* ?

- A. La cause
- B. La manière
- C. Le but
- D. La conséquence

Question 91 : C'est un vol avec

- A. effraction
- B. infraction
- C. efraction
- D. affraction

Question 92 : Elles se sont et se sont pendant une heure

- A. téléphonées – parlées
- B. téléphonées – parlé
- C. téléphoné = parlé
- D. téléphoné – parlées

Question 93 : Que signifie l'expression **mettre la charrue avant les bœufs** ?

- A. Se tromper lourdement
- B. Etre très têtue
- C. Vouloir faire des choses très vite
- D. Respecter les priorités

Question 94 : Après quel signe de ponctuation ne met-on pas de majuscule ?

- A. Le point d'exclamation
- B. Le point d'interrogation
- C. Le point virgule
- D. Le point

Question 95 : Hier soir, les négociateurs ont fait tout pour concilier les parties patronales et syndicales

- A. leur pouvoir
- B. leur possible
- C. en leur possible
- D. en leur pouvoir

Question 96 : Quelle est la bonne orthographe ?

- A. Labirinte
- B. labyrinth
- C. labyrinth
- D. labirinthe



Question 97 : la pluie aura bien imprégné le sol, je prendrai la masse et j'irai enfoncer les piquets.

A. Lorsque
C. Tandis que

B. Alors que
D. Bien que

Question 98 : Tu ne cesses de nous faire l'apologie de ton voisin. Que signifie le mot apologie ?

A. description
C. critique

B. éloge
D. exégèse

Question 99 : Quel est l'antonyme de l'adjectif factice ?

A. artificiel
C. naturel

B. simulé
D. imité

Question 100 : Quelle est la signification du préfixe archéo- ?

A. sacré
C. ancien

B. pure
D. moderne

Fin